

KPSS GENEL KÜLTÜR BÖLÜMÜ

Bu Bölümde Toplam 60 Soru Bulunmaktadır.

1. **Aşağıdakilerden hangisi Orta Asya Türk göçlerinin nedenleri arasında gösterilemez?**

- A) Dış baskılar
- B) Hızlı nüfus artışı
- C) Salgın hayvan hastalıkları
- D) Atı evcilleştirmiş olmaları
- E) Türk Cihan Hâkimiyeti düşüncesi

2. I. Avarlar

II. Bulgarlar

III. Hunlar

IV. Türgişler

Yukarıdaki Türk topluluklarından hangileri hem Orta Asya'da hem de Avrupa'da devlet kurmuştur?

- A) Yalnız I
- B) Yalnız IV
- C) I ve III
- D) II ve IV
- E) III ve IV

3. **Cengiz Han'ın torunu Batu Han tarafından Hazar Denizi ile Karadeniz'in kuzeyinde kurulan, Timur'un seferleri sonunda zayıflayıp parçalanan ve İslamiyet'i kabul eden ilk Cengiz kolu olan devlet aşağıdakilerden hangidir?**

- A) Altın Orda Devleti
- B) Çağatay Devleti
- C) Akkoyunlu Devleti
- D) Babür Devleti
- E) Kubilay Devleti

4. I. Ulak

Posta teşkilatından sorumlu olan görevli

II. Çaşnigir

Hükümdarın kıyafetleriyle ilgilenen görevli

III. Alemdar

Devlete ait bayrak ve sancaklardan sorumlu kişi

IV. Devaddar

Hükümdarın yazı takımlarını muhafaza eden görevli

V. Pervaneci

İktaların dağılmasından sorumlu görevli

Yukarıdakilerden hangisinin açıklaması karşısında yanlış verilmiştir?

- A) I
- B) II
- C) III
- D) IV
- E) V

5. Duvar gibi yüzeylerde kaplama olarak kullanılan renkli ve genellikle bezeli seramiğe çini denilmektedir.

Osmanlı çini sanatının ilk örneği olan eser aşağıdakilerden hangisidir?

- A) Ankara Hacı Bayram Cami
- B) Bursa Hüdâvendigâr Cami
- C) İstanbul Süleymaniye Cami
- D) İznik Yeşil Cami
- E) Edirne Üç Şerefeli Cami

6. XIX. yy.'da Batı tarzı resmin en önemli temsilcisi olan ve Osmanlı Devleti'nde ilk resim sergisini açan ünlü ressam aşağıdakilerden hangidir?

- A) Matrakçı Nasuh
- B) Şeker Ahmet Paşa
- C) Osman Hamdi Bey
- D) İsmail Dede Efendi
- E) Abdulkadir Meragi Efendi

7. Aşağıdakilerden hangisi, Osmanlı Devleti'ni dağılmaktan kurtarmak için ilan edilen 1839 Tanzimat Fermanı'nın Osmanlı Devleti'nde getirdiği yeniliklerden biri değildir?

- A) Vergilerin herkesin gelirine göre alınması
- B) Mahkeme kararı olmadan hiç kimseye ceza verilmemesi
- C) İşkence ve angaryanın kaldırılması
- D) Mülkiyet hakkının devlet garantisi altına alınması
- E) İrk, din ve dil farklılığı yüzünden halkı aşağılayan sözlerin resmi yazışmalardan kaldırılması

8. Osmanlı Devleti'nin XIX. yüzyılda ortaya çıkan Yunan isyanıyla uğraşmasından faydalanan Fransa aşağıdaki topraklardan hangisini işgal etmiştir?

- A) Kıbrıs
- B) Bosna-Hersek
- C) Cezayir
- D) Trablusgarp
- E) Mısır

9. Aşağıdakilerden hangisi İttifak Devletleri'nin Boğazları ve İstanbul'u alarak Osmanlı Devleti'ni savaş içinde çöktürüp saf dışı bırakmak için başlattıkları 1915 Çanakkale Savaşları'nın sonuçlarından biri değildir?

- A) Yunanistan'ın İttifakların yanında savaşa katılması
- B) Askeri ve ekonomik yardım alamayan Rusya'da ihtilalin ortaya çıkması
- C) Mustafa Kemal'in tanınmasına ve Milli Mücadele'ye lider olmasına katkı sağlaması
- D) Osmanlı Devleti ile Almanya arasında kara bağlantısının kurulması
- E) İstanbul'un işgalinin gecikmesi

10. İtilaf Devletleri; I. Dünya Savaşı sürerken, savaş sonunda Osmanlı Devleti'ni paylaşma konusunda anlaşmazlığa düşmemek için, Osmanlı Devleti'nin topraklarını kendi aralarında gizli antlaşmalar ile paylaşmışlardır.

Aşağıda verilen gizli antlaşmalardan hangisi I. Dünya Savaşı'nda İtalya'nın taraf değiştirmesine neden olan gizli antlaşmadır?

- A) İstanbul (Boğazlar) Antlaşması
B) Londra Antlaşması
C) Sykes-Picot Antlaşması
D) Mac-Mahon Antlaşması
E) Sen Jan De Maurienne Antlaşması

11.	Kongre	Düzenleyen Kuruluş
I.	Edirne ve Lüleburgaz Kongreleri	Trakya Paşaeli Cemiyeti
II.	Erzurum Kongresi	Şark (Doğu) Vilayetleri Müdafaa-i Hukuk Cemiyeti
III.	Sivas Kongresi	Milli Kongre Cemiyeti

Milli Mücadele Dönemi'nde düzenlenen kongreler ile ilgili yukarıdaki eşleştirmelerden hangisi veya hangileri doğrudur?

- A) Yalnız I B) Yalnız II C) Yalnız III
D) I ve II E) I, II ve III

12. **Aşağıdakilerden hangisi, I. TBMM Dönemi gelişmelerinden biri değildir?**

- A) İstiklal Marşı'nın kabul edilmesi
B) Teşkilat-ı Esasiye adıyla bir anayasa yapılması
C) Takrir-i Sükûn Kanunu'nun çıkarılması
D) Saltanat'ın kaldırılması
E) Lozan Antlaşması'nın imzalanması

13. **I. İnönü Muharebesi'nden sonra Sovyet Rusya ile imzalanan 1921 Moskova Antlaşması'nın aşağıdaki maddelerinden hangisi "TBMM Hükümeti ile Sovyet Rusya'nın birbirlerinin yönetimlerine saygılı olacaklarının" kanıtıdır?**

- A) Her iki tarafta, toprakları üzerinde karşı tarafın hükümet rejimini yıkmayı amaçlayan örgütlerin kurulmasına izin vermeyecek
B) Her devlet kendi geleceğine kendisi karar verebilecek
C) İki taraftan birinin tanımadığı bir anlaşmayı öteki taraf da tanımayacak
D) Çarlık Rusya ile Osmanlı Devleti arasında yapılmış olan tüm anlaşmalar geçersiz sayılacak
E) Taraflar arasında ekonomik ve kültürel ilişkiler sıklaştırılacak

14. • İngiltere ile Esir Mübadelesi Antlaşması'nın yapılması
• Ukrayna ile Dostluk Anlaşması'nın yapılması
• Mustafa Kemal'e Gazilik unvanının verilmesi

Yukarıda verilen gelişmeler Kurtuluş Savaşı yıllarında yapılan aşağıdaki hangi savaşın sonuçları arasındadır?

- A) Aslıhanlar ve Dumlupınar Savaşı
B) Birinci İnönü Savaşı
C) İkinci İnönü Savaşı
D) Eskişehir ve Kütahya Savaşları
E) Sakarya Savaşı

15. Cumhuriyet Dönemi'nde yapılan aşağıdaki değişikliklerden hangisi, toplumsal hayattaki uygulamalarda, aynı konuda var olan farklılıkları ortadan kaldırma amacına yöneliktir?

- A) Halifeliğin kaldırılması
B) Latin harflerinin uygulamaya konulması
C) Millet Mekteplerinin açılması
D) Tek dereceli seçim sistemine geçilmesi
E) Miladi takvimin kabul edilmesi

16. Türkiye Cumhuriyeti'nde çok partili hayata geçilmesinin gecikmesinde,

- I. Razgrad Olayı
II. Menemen Ayaklaması
III. Nasturi Ayaklanması

hangilerinin çıkmasının etkili olduğu söylenebilir?

- A) Yalnız I B) Yalnız II C) Yalnız III
D) II ve III E) I, II ve III

17. I. Eski rejim taraftarlarının halifeye siyasal haklar tanımak istemeleri
II. Halifeliğin Cumhuriyet ile bağdaşmaması
III. Bazı TBMM üyelerinin "TBMM halifenin, halife de TBMM'nindir." şeklindeki propagandaları

- IV. Halifenin dini işlerle uğraşması

Yukarıda verilenlerden hangileri 3 Mart 1924 tarihinde Halifeliğin kaldırılmasının nedenleri arasında yer almaz?

- A) I ve II B) II ve III C) Yalnız IV
D) Yalnız III E) III ve IV

18. Aşağıda verilenlerden hangisi Yeni Türk Devleti'nin rejiminin korunmasına yönelik alınan tedbirlerden biridir?

- A) Takrir-i Sükûn Kanunu'nun çıkarılması
- B) Misak-ı İktisadi'nin kabul edilmesi
- C) Medreselerin kapatılması
- D) Millet Mektepleri'nin açılması
- E) Tekâlif-i Milliye Emirleri'nin uygulanması

19. I. Millet mekteplerinin açılması
II. Kabotaj Kanunu'nun çıkarılması
III. Türk Tarih Kurumu'nun kurulması

Yukarıda verilenlerden hangileri Türkiye Cumhuriyeti'nde okuma - yazma oranını artırmak için yapılan uygulamalar arasındadır?

- A) Yalnız I
- B) Yalnız II
- C) I ve II
- D) I ve III
- E) I, II ve III

20. Aşağıdakilerden hangisi Türkiye Cumhuriyeti'nde "devletin dini inançlar karşısında tarafsızlığını sağlamak" amacıyla yapılan uygulamalar arasındadır?

- A) Tevhid-i Tedrisat Kanunu'nun çıkarılması
- B) Şer'iyye ve Evkaf Vekâleti'nin kaldırılması
- C) Medeni Kanun'un kabul edilmesi
- D) Tekke, Zaviye ve Türbelerin kapatılması
- E) 1924 Anayasası'nda 1928 değişikliğinin yapılması

21. Aşağıdakilerden hangisi 17 Şubat 1926 tarihinde kabul edilen Türk Medeni Kanunu'nun kapsamında değildir?

- A) Anneye çocuğun velayetini alma hakkının tanınması
- B) Kadınların eşlerinin soyadı ile birlikte kızlık soyadlarını kullanabilmesi
- C) Tek eşlilik esasının ve resmi nikâh zorunluluğunun getirilmesi
- D) Kadınlara istediği mesleğe girebilme hakkının verilmesi
- E) Patrikhanenin din işleri dışında başka işlerle uğraşmasının yasaklanması

22. Aşağıda verilenlerden hangisi, Atatürk Dönemi'nde meydana gelen gelişmelerden biridir?

- A) Köy Enstitülerinin açılması
- B) Demokrat Parti'nin kurulması
- C) Toprak Mahsulleri Vergisi'nin kabul edilmesi
- D) Seçimlerde gizli oy ilkesi ile açım sayım ve döküm ilkesinin uygulamaya konulması
- E) Birinci Beş Yıllık Kalkınma Planı'nın uygulanması

23. Yeni Türk devletinde görülen;

- I. Saltanatın kaldırılması,
- II. Medeni Kanun'un kabul edilmesi,
- III. Kadınlara seçme ve seçilme hakkının verilmesi

gibi gelişmelerden hangileri hem ulusal egemenlik hem de laiklik ilkeleriyle ilgilidir?

- A) Yalnız I
- B) Yalnız III
- C) I ve II
- D) I ve III
- E) I, II ve III

24. – Yönetimde her türlü düşünceye sahip insanların etkili olabilmesine olanak sağlar.
– Ülke sınırları içinde yaşayan herkesin ortak idealleri benimseyen bir düşünce yapısına sahip olmalarını amaçlar.
– Her alanda bütün vatandaşlara fırsat eşitliği sağlar.
– Özgür düşünceye, akılcılık ve bilimselliğe önem verir.

**Atatürk ilkeleriyle ilgili yukarıda verilen bilgilerde aşağıdaki hangi Atatürk ilkesine deği-
nilmemiştir?**

- A) Milliyetçilik B) Halkçılık
C) Cumhuriyetçilik D) Devletçilik
E) Laiklik

25. **Atatürk'ün;** "Ben 1919 senesi Mayıs'ı içinde Samsun'a çıktığım gün elimde maddi hiçbir kuvvet yoktu. Yalnız Türk Milletinin asaletinden doğan ve benim vicdanımı dolduran yüksek ve manevi bir kuvvet vardı." **sözünün aşağıdaki ilkelere hangisiyle ilişkili olduğu söylenebilir?**

- A) Cumhuriyetçilik B) Milliyetçilik
C) Halkçılık D) Laiklik
E) İnkılapçılık

26. **Aşağıdaki uygulamalardan hangisi Halkçılık ilkesi ile doğrudan ilgili değildir?**

- A) İşçilerin yaşam koşullarının iyileştirilmesi
B) Topraksız köylüye toprak dağıtılması
C) Ağır sanayinin devlet eliyle oluşturulması
D) Köylüye düşük ücretlerle traktör dağıtılması
E) Girişimcileri destekleyen bankalar kurulması

27. I. Unvan ve lakapların kaldırılması
II. Tekke ve zaviyelerin kapatılması
III. Gümrük Koruma Kanunu'nun çıkarılması
Cumhuriyet Dönemi'nde gerçekleştirilen yukarıda verilen yeniliklerin Atatürk ilkeleriyle ilişkisi aşağıdakilerden hangisinde doğru olarak verilmiştir?

	I	II	III
A)	Laiklik	Halkçılık	Milliyetçilik
B)	Halkçılık	Milliyetçilik	Laiklik
C)	Halkçılık	Laiklik	Milliyetçilik
D)	Milliyetçilik	Halkçılık	Laiklik
E)	Laiklik	Milliyetçilik	Halkçılık

28. I. Bağdat Paktı
II. Kellogg Paktı
III. Birleşmiş Milletler
- Türkiye Cumhuriyeti'nin yukarıda verilen uluslararası teşkilatlara üye olma sırası aşağıdakilerden hangisinde doğru olarak verilmiştir?**

A) I, II, III B) III, I, II C) II, I, III
D) II, III, I E) III, II, I

29. Atatürk, 1935 yılında yaptığı bir konuşmada; "Savaşın ağırlığını göz önüne almayan bazı samimiyetten yoksun önderler, saldırının araçları olmuşlardır. Denetimleri altındaki uluslara ulusçuluğu ve geleneği yanlış bir biçimde göstererek ve kötüye kullanarak onları aldatmışlardır." demiştir.

Atatürk yukarıdaki sözleri ile aşağıdaki hangi ülkelerin politikalarını eleştirmiştir?

A) Bulgaristan - Yunanistan
B) İngiltere - ABD
C) Sovyet Rusya - Fransa
D) İtalya - Almanya
E) Irak - Suriye

30. **Türkiye Cumhuriyeti'nin**

I. Kıbrıs
II. Musul
III. Oniki Ada
IV. Hatay
V. Boğazlar

sorunlarından hangileri, 1923 – 1939 yılları arasında lehine çözümlenmiştir?

A) I ve III B) I ve IV C) II ve IV
D) III ve IV E) IV ve V

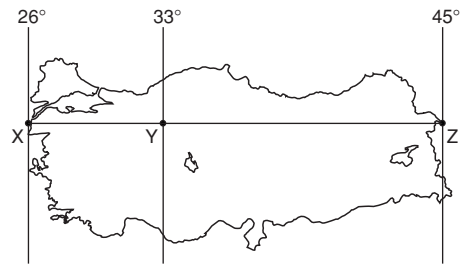
31. Matematik ve özel konum etkisiyle ülkemizde iklim, tarım, nüfus, ulaşım, ticaret gibi faktörler günümüz şartlarını oluşturmaktadır.

Aşağıdakilerden hangisi ülkemizin matematik konumunun sonuçlarından biridir?

A) Nüfus artış hızının yüksek olması.
B) Dağların genellikle doğu batı istikametinde uzanması
C) Deprem kuşağı üzerinde yer alması
D) Akdeniz kıyılarından Ege kıyılarına gidildikçe tuzluluk oranının azalması
E) Kuzey – Güney yönlü ulaşımın güç olması

ACI AKADEMİ

- 32.



Haritada verilen x, y ve z noktaları üzerinde aşağıdakilerden hangisi kesinlikle aynıdır?

A) İklim özellikleri
B) Gündüz süreleri
C) Yerel saatleri
D) Tarım ürünleri
E) Yükselti değerleri

33. Menderes oluşturmuş bir akarsuyla ilgili olarak aşağıda verilen bilgilerden hangisi yanlıştır?

- A) Enerji potansiyeli azalmıştır.
- B) Yatak eğimi azalmıştır.
- C) Ulaşım ve taşımacılık kullanılabilir.
- D) Boyu uzamıştır.
- E) Aşındırma gücü azalmıştır.

34. Akdeniz Bölgesi'nde hakim olan iklim özellikleri dar bir kıyı şeridinde görülürken. Ege Bölgesi'nde aynı iklim özelliklerinin daha geniş bir sahada hakim olduğu görülmektedir.

Yukarıda verilen durumun görülmesinde etkili olan temel faktör aşağıdakilerden hangisidir?

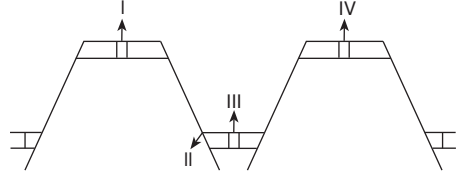
- A) Dağların kıyıya paralel uzanışıyla
- B) Karstik kayaçların görülmesiyle
- C) Ortalama yükseltiye
- D) Dağların kıyıya dik uzanmasıyla
- E) Karasal iklim özelliklerinin görülmesiyle

35. I. Kuzey Anadolu Dağlarının oluşumu
II. Taşkömürü yataklarının oluşumu
III. İstanbul ve Çanakkale Boğazlarının oluşumu
IV. Linyit, petrol, tuz yataklarının oluşumu
V. Kıbrıs'ın Anadolu'dan kopması

Yukarıda verilen bilgilerden hangisi IV. jeolojik zamanda meydana gelen olaylardandır?

- A) I – III B) II – V C) IV – V
- D) III – IV E) III – V

36.



Yukarıda verilen şekille ilgili olarak aşağıdakilerden hangisi yanlıştır?

- A) I nolu alan antikalinal'dir.
- B) II nolu alan fay kırığıdır.
- C) III nolu olan graben'dir
- D) Ege Bölgesi'nde yaygındır.
- E) Orojenez sonucu oluşmuştur.

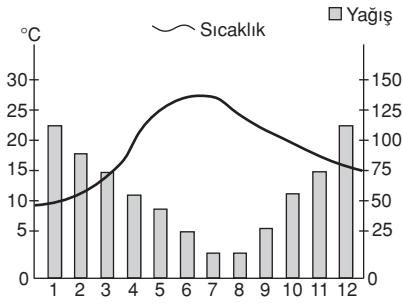
37.

Kent	En Soğuk ay ortalama (°C)	En sıcak ay ortalaması (°C)
I	8,6	27,5
II	-8,6	14,3
III	-3	10
IV	10,4	28,5
V	3	22,5

Yukarıda en sıcak ve en soğuk ay ortalamaları verilen kentlerden hangisinde karasallık daha belirgindir?

- A) I B) II C) III D) IV E) V

38.



Grafikte sıcaklık ve yağış dağılımı gösterilen kent aşağıdakilerden hangisi olabilir?

- A) Erzurum B) Konya C) Trabzon
D) Gaziantep E) İzmir

39.

- Plansız kentleşme
- Ulaşım sorunları
- Çevre kirliliği
- Sağlık sorunları

Yukarıda verilen olayların yaşanması bu kentlerde aşağıdakilerden hangisini kanıtlar?

- A) Kentin fiziki özelliklerini
B) Nüfusun yetersiz olduğu
C) Yoğun göç aldığı
D) İş imkanlarının yetersiz olduğunu
E) Dışarıya göç verdiği

40. Aşağıdakilerden hangisi göç olaylarına neden olan faktörler içinde en az etkiye sahiptir?

- A) İklim değişiklikleri
B) Nüfus artış hızı
C) Doğal afetler
D) Ekonomik etkinlikler
E) Siyasi sebepler

41. Ülkemizde çiftçiler sadece tarımla değil bunun yanında hayvancılık ya da buna benzer bazı yan dallarlarda uğraşmak zorundadırlar.

Aşağıdakilerden hangisi bu durumun nedenidir?

- A) Ova ve platoların geniş yer kaplaması
B) İklimin kararsızlığı
C) Verimliliğin yüksek olması
D) Sulama imkanlarının fazla olması
E) Yılda birden fazla ürün alınması

42. Türkiye'de son yıllarda kümes hayvancılığı çok yaygın hale gelmesine rağmen bu alanda elde edilen verim düşüktür.

Bu durumun en önemli nedeni aşağıdakilerden hangisidir?

- A) Beyaz etin daha sağlıklı olması
B) Yerli ırk kümes hayvanlarının beslenmesi
C) Yeryüzü şekillerinin elverişsiz olması
D) Geleneksel yöntemlerin uygulanması
E) İklim koşullarından etkilenmesi

43. Aşağıdaki grafikte beş bölgenin yıllık hidroelektrik üretim miktarları verilmiştir.

Bölge	Hidroelektrik Potansiyel (Milyon kilovat)
I	22,3
II	18,7
III	35,4
IV	14,5
V	6,2

Hidroelektrik üretim miktarı verilen bölgelerden diğer şartlar eşit kabul edilirse hangi bölgede yeryüzü şekilleri daha sadedir?

- A) I B) II C) III D) IV E) V

44. Sanayi tesislerinin kuruluşunda bir çok faktör etkili olmaktadır. Buna göre sanayi tesislerinin kurulacağı bölgede aşağıdakilerden hangisi en az etkilidir?

- A) Pazarlama imkanları
B) Hammaddeye yakınlık
C) Nüfusun fazla olması
D) Ulaşımın kolay olması
E) Su kaynaklarının yeterli olması

45. Aşağıda verilen kent çiftlerinden hangi ikisi arasında yapılacak olan yolun maliyeti daha düşüktür?

- A) Aydın – Uşak
B) Rize – Kars
C) Mersin – Niğde
D) Karabük – Zonguldak
E) Gaziantep – Elazığ

46. Karadeniz Bölgesinde

- Kıta sahanlığının dar olması
- Kıyıda girinti ve çıkıntının az olması
- Falezlerin yaygın olması

verilen özelliklerin temel sebebi aşağıdakilerden hangisidir?

- A) Kıyı ile iç kesimler arasında ulaşımın geçitlerle sağlanması
B) Toprak kaymasının fazla olması
C) Gür bitki örtüsüne sahip olması
D) Dağların kıyıya paralel uzanması
E) Yağış rejiminin düzenli olması

47. Akdeniz Bölgesi'nde yer alan Cennet – Cehennem obrukları ve Damlatış mağarası Akdeniz Bölgesi'nin önemli turistik yerleridir. Bu yörelerin oluşumunda Akdeniz Bölgesi'nin hangi özelliği etkili olmuştur?

- A) Ovaların geniş yer kaplaması
B) Karstik kayaların geniş yer kaplaması
C) Dağların kıyıya paralel uzanması
D) Bölgenin iklim özellikleri
E) Akarsu ağının sık olması

48. Orta Kızılırmak Bölümü'nde tarım alanlarının Konya Bölümü'nden daha verimli olması aşağıdakilerden hangisine bağlıdır?

- A) Volkanik arazilerin geniş yer kaplaması
B) Bozkırların geniş yer kaplaması
C) Alüvyon ovaların yaygın olması
D) Yarı kurak iklim özellikleri
E) Karstik arazilerin geniş yer kaplaması

49. Aşağıdakilerden hangisi hukukun asli kaynaklarından değildir?

- A) Tüzükler
- B) Yönetmelikler
- C) Kanunlar
- D) Genelgeler
- E) İçtihatlar

50. Aşağıdakilerden hangisi Kamu Hukuku'nun dalları arasında yer alır?

- A) Vergi Hukuku
- B) Ticaret Hukuku
- C) Borçlar Hukuku
- D) İş Hukuku
- E) Çevre Hukuku

51. I. Eğitim ve öğrenim hürriyeti

II. Özel hayatın gizliliği hürriyeti

III. Düşünce ve kanaat hürriyeti

1982 Anayasası'na göre savaş, seferberlik, sıkıyönetim ve olağanüstü hallerde milletlerarası hukuktan doğan yükümlülükler ihlal edilmemek kaydıyla yukarıda verilen temel hak ve hürriyetlerden hangisinin kullanılması kısmen veya tamamen durdurulamaz?

- A) Yalnız I
- B) Yalnız II
- C) Yalnız III
- D) II ve III
- E) I, II ve III

52. "Seçimlerin yargı organlarının denetiminde yapılması" **ilk kez aşağıda verilen hangi anayasada yer almıştır?**

- A) 1876 Anayasası
- B) 1921 Anayasası
- C) 1924 Anayasası
- D) 1961 Anayasası
- E) 1982 Anayasası

53. Meclis Genel Kurulu tarafından yasama dokunulmazlığının kaldırılmasına karar verilen milletvekilinin iptal başvurusunu Anayasa Mahkemesi kaç gün içinde kesin karara bağlar?

- A) 7 gün
- B) 15 gün
- C) 30 gün
- D) 45 gün
- E) 60 gün

54. 1982 Anayasası'na göre, aşağıdakilerden hangisi TBMM üyeliğinin sona erme nedenlerinden biri değildir?

- A) Milletvekilinin meclis çalışmalarına özürsüz veya izinsiz olarak 1 ay içinde toplam 5 birleşim günü katılmaması
- B) Milletvekilinin Anayasa'ya göre milletvekilliğiyle bağdaşmayan bir görevi ve hizmeti sürdürmekte ısrar etmesi
- C) Milletvekilinin Cumhurbaşkanı seçilmesi
- D) Milletvekilinin kesin hüküm giymesi veya kısıtlanması
- E) Milletvekilinin partisinden istifa ederek başka bir partiye geçmesi

55. Bakanlıkların kurulması, kaldırılması ve görevleri aşağıda verilenlerden hangisi ile düzenlenir?

- A) Kanun
- B) Yargıtay kararı
- C) Bakanlar Kurulu kararı
- D) Anayasa Mahkemesi kararı
- E) Müşterek (Ortak) Kararname

56. I. Kanunlar
II. Tüzükler
III. TBMM üyeliğinin düşürülmesine ilişkin meclis kararları

Yukarıda verilenlerden hangileri Anayasa Mahkemesi'nin denetimine tabi olan norm ve işlemlerdendir?

- A) Yalnız I
- B) Yalnız II
- C) Yalnız III
- D) I ve III
- E) I, II ve III

57. Aşağıdakilerden hangisi Milli Güvenlik Kurulu'nun daimi (sürekli) üyelerinden değildir?

- A) Başbakan Yardımcıları
- B) Maliye Bakanı
- C) Genelkurmay Başkanı
- D) Dışişleri Bakanı
- E) Jandarma Genel Komutanı

58. Vali ile ilgili aşağıda verilen ifadelerden hangisi yanlıştır?

- A) Yerinden yönetim kuruluşları üzerinde idari vesayet yetkisini kullanır.
- B) Olağanüstü durumlarda askeri kuvvetlerden yardım isteyebilir.
- C) İlde bulunan bütün devlet dairelerinde ve işletmelerinde denetleme yapar.
- D) Kamu görevlileri üzerinde hiyerarşi yetkisini kullanır.
- E) İçişleri Bakanlığı'nın önerisi, Bakanlar Kurulu'nun kararı ve Cumhurbaşkanı'nın onayı ile atanır.

59. Aşağıda verilenlerden hangisi Birleşmiş Milletlere bağlı kuruluşlardan biri değildir?

- A) Dünya Bankası (WB)
- B) Evrensel Posta Birliği (UPU)
- C) Gıda ve Tarım Örgütü (FAO)
- D) Dünya Ticaret Örgütü (WTO)
- E) Ekonomik İşbirliği Teşkilatı (ECO)

60. G-8 (Dünyanın en gelişmiş ve zengin sekiz ülkesi) 2011 yılı toplantısı aşağıdaki ülkelerden hangisinde yapılmıştır?

- A) Fransa
- B) Japonya
- C) İtalya
- D) Kanada
- E) İngiltere

SINAV BİTTİ

CEVAPLARINIZI KONTROL EDİNİZ.